

考えてみよう

1. 敵から身を守ったり、戦ったりするために、瓦の乗った丈夫な建物や背の
高い石垣は必要かな？

必要 ・ 必要ない (考えた方にどちらか○をつけて、理由も考えてみよう)

なぜ：

2. 敵から身を守ったり、戦ったりするために、派手な金箔瓦や、立派な天主
のある建物は役立つかな？


役立つ ・ 役立たない (考えた方にどちらか○をつけて、理由も考えてみよう)

なぜ：

3. 織田信長が安土城を建てたのは、戦うため以外の目的もあったのかな？

ヒント：信長の一族しか使えない金箔瓦は何を示すために使われたのかな？

4. 《自由に感想を書いてみよう》当時の城に住んでいない人々は、安土城を
見てどう思ったかな？



ここで山折り(やまおり)りしてね

がくしゅう

まめのぶくんの

学習シート その2

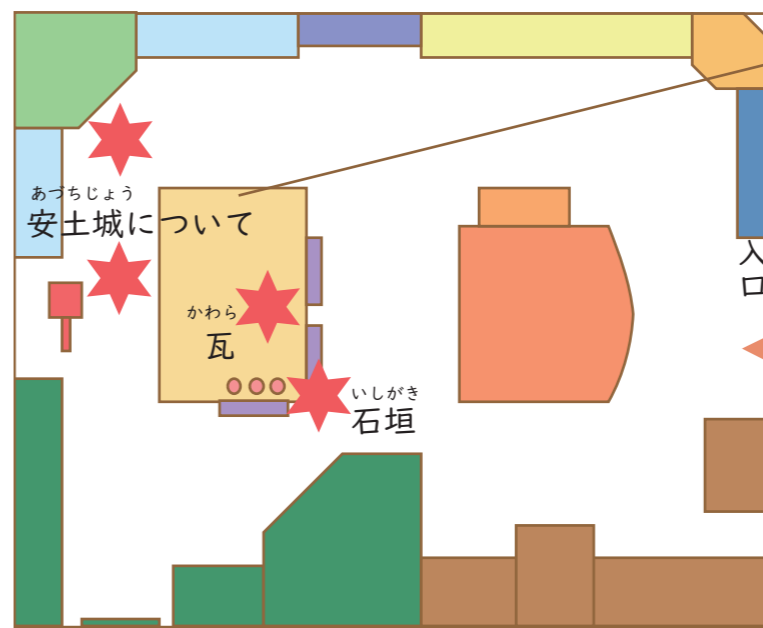
滋賀県立安土城考古博物館へようこそ！

第2常設展示室では、安土城や織田信長に関するものを中心に、「城」をテーマにした展示を行っています。

下に示したなぞが、本当かどうか、なぜそうなのか、展示を見ながらまめのぶくんといっしょに調べてみよう！

なぞ その2

安土城はごうかな城だった？




展示室の地図



このシートでは展示室の★マークのところをみるのじゃぞ！

まめのぶくん



展示室での約束

- しずかに話そう
- ケースや物にさわらない

- ゆっくり歩こう
- えんぴつを使おう

日付	年 月 日
学校名	
学年・組	年 組 番
氏名	

なぞ その2

あづちじょう しろ 安土城はごうかな城だった？

あづちじょうあと つか もの たてもの あと み
「安土城跡」からは、そこで使われていた物や、建物の跡が見つかっています。
そのほか、えず みる ぶんしょ つた おお のこ 絵図や古い文書なども伝えられています。まだなぞが多く残されているため、しりょう すがた さぐ けんきゅう げんざい つづ これらの資料からその姿を探るための研究が現在も続けられています。

あづちじょう た ほか しろ おお こと とくちょう
安土城はそれまでに建てられた他の城とは大きく異なる特徴を
もっていたといわれておるぞ。石垣・礎石（建物の柱の土台に
なる石のこと）・瓦の3つが、その代表じゃ。



やってみよう

1. いしがき もけい みくら いしがき しろ なまえ か 石垣の模型を見比べて、ア～ウの石垣に、それぞれの城の名前を書きこんで、じだい みる じゅんばん すうじ か 時代が古い順番に1～3の数字を書きこもう。



ア（じょう 城）
時代順 _____

イ（じょう 城）
時代順 _____

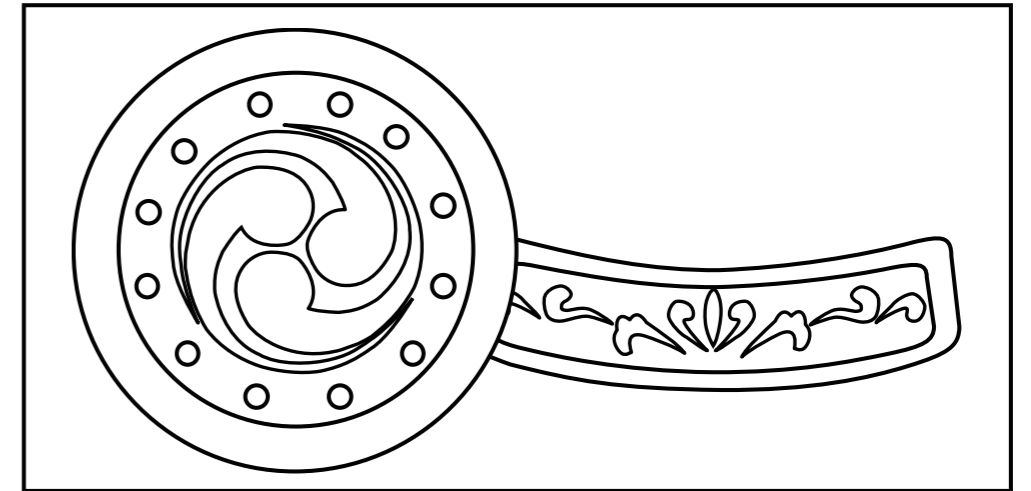
ウ（じょう 城）
時代順 _____

いし てつ どうぐ わ いし 石を鉄の道具で割ったり石
のこ き 鋸で切ったりする。
ま すき間がないようピッタリ
つ と積む。
じだい たか この時代には、高さ10mを
いしがき あらわ こえる石垣も現れる。

いし わ わ 石を2つに割って、割れた
めん おもて お 面を表に向けている。
ま ちい いし つ すき間に、小さな石を詰め
る。
じだい たか この時代は、高さ10mまで
いしがき おお の石垣が多い。

しぜん いし めん もち つ 自然の石の面を用いて積ま
れる。
いし おお 石の大きさはバラバラ。こ
じだい ぎじゅつてき の時代は、技術的にあまり
たか いしがき つ 高い石垣は積めない。

2. あづちじょうあと み きんぱくがわら さいげん もけい み きんぱく は 安土城跡から見つかった金箔瓦を再現した模型を見ながら金箔が貼
ぶぶん えんぴつ いろ きんぱくがわら さいげん られていない部分に鉛筆で色をぬって、金箔瓦を再現しよう。



- へこんだ部分か、ぶぶん てっぱった部分のどちらに金箔が貼られているかな？
あづちじょう あと じだい た しろ おおさかじょう み さが 安土城の後の時代に建てられた城（大坂城など）で見つかったものも探し
あづちじょう ちが ぶぶん は てみるのじゃ。安土城とは違う部分に貼られているぞ。

- きんぱくがわら おだのぶなが はじ しょう 金箔瓦は織田信長によって初めて使用されたといわれています。はじめ、
のぶなが いちぞく ひと つか 信長やその一族の人だけが使っていました。

3. あづちじょう たてもの もけい かいせつ み あなうめ か 安土城の建物の模型と解説を見て穴埋めクイズに書きこんでみよう。

- あづちじょう てんしょう ねん ねん おだのぶなが ちく 安土城は、天正 ① _____ 年 (② _____ 年) から、織田信長によって築
じょう しろ た かいし 城（城を建てること）が開始されました。
てんしゅ そう かい たか やく 天主は、③ _____ 層 ④ _____ 階、高さ約 ⑤ _____ mのつくりだった
とされています。
へん こんらん てんしょう ねん ねん てんしゅ ⑥ _____ の変の混乱により、天正 ⑦ _____ 年 (⑧ _____ 年) 天主
ひ や は火で焼けてなくなりました。
あづちじょう なか てんしゅ ほか たてもの あと 安土城の中には、天主の他にも建物の跡がたくさんあります。そのうち
の1つに ⑨ _____ の屋敷もありました。

この問題は、
やしきあと もけい み 屋敷跡の模型を見てね！